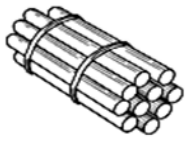


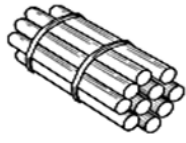
COUNT AND WRITE



and



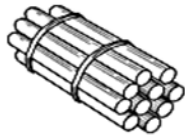
is



and



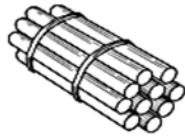
is



and



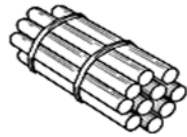
is



and



is



and



is

Fill in the missing numerals.

1						4			
---	--	--	--	--	--	---	--	--	--

						8			10
--	--	--	--	--	--	---	--	--	----

									14
--	--	--	--	--	--	--	--	--	----

						17			19
--	--	--	--	--	--	----	--	--	----

--	--	--	--	--	--	--	--	--	--

--	--	--	--	--	--	--	--	--	--

--	--	--	--	--	--	--	--	--	--

--	--	--	--	--	--	--	--	--	--

Complete the series.

1									
---	--	--	--	--	--	--	--	--	--

7									
---	--	--	--	--	--	--	--	--	--

13									
----	--	--	--	--	--	--	--	--	--

16									
----	--	--	--	--	--	--	--	--	--

9									
---	--	--	--	--	--	--	--	--	--

--	--	--	--	--	--	--	--	--	--

--	--	--	--	--	--	--	--	--	--

Match one to one

